












1.2 Правила плавания маломерных судов, включая правила плавания в портах

No	Вопрос	Иллюстрация	Варианты ответа (правильный выделен)
1.	Что обозначает изображенный на иллюстрации береговой навигационный информационный знак?		<ul style="list-style-type: none">• Участок ВВП, на котором запрещено отдавать якоря, опускать цепи и лоты
2.	Что обозначает изображенный на иллюстрации береговой навигационный информационный знак?		<ul style="list-style-type: none">• Участок, где на судовом ходу запрещено движение судов длиной 20 метров и менее




<p>3.</p>	<p>Что обозначает кромочный створ?</p>		<ul style="list-style-type: none"> • Кромки судового хода
<p>4.</p>	<p>Что обозначает изображенный на иллюстрации береговой навигационный информационный знак?</p>		<ul style="list-style-type: none"> • Место пересечения судового хода судами и (или) паромными переправами
<p>5.</p>	<p>Что обозначает изображенный на иллюстрации береговой навигационный информационный знак?</p>		<ul style="list-style-type: none"> • Участок судоходного пути, где скорость движения водоизмещающих судов ограничена 15 км/ч


6.	Что означают изображенные на иллюстрации сигнальные фигуры и огни на семафорной мачте?	 The image shows a semaphore signal against a grey background. A red T-shaped arm is positioned horizontally. On the left side of the horizontal bar, two red triangles are stacked vertically. On the right side, a black rectangular light housing contains two red circular lights, also stacked vertically.	<ul style="list-style-type: none">• Ход закрыт в оба направления
7.	Что означает изображенное на иллюстрации сочетание сигнальных фигур на семафорной мачте?	 The image shows a semaphore signal against a blue sky background. A red T-shaped arm is positioned vertically. A black square is suspended from the top horizontal bar, and a red triangle is suspended from the vertical stem below the square.	<ul style="list-style-type: none">• Ход закрыт для движения снизу
8.	Что означает изображенное на иллюстрации сочетание сигнальных фигур на семафорной мачте?	 The image shows a semaphore signal against a blue sky background. A red T-shaped arm is positioned vertically. A red triangle is suspended from the top horizontal bar, and a black square is suspended from the vertical stem below the triangle.	<ul style="list-style-type: none">• Ход закрыт для движения сверху


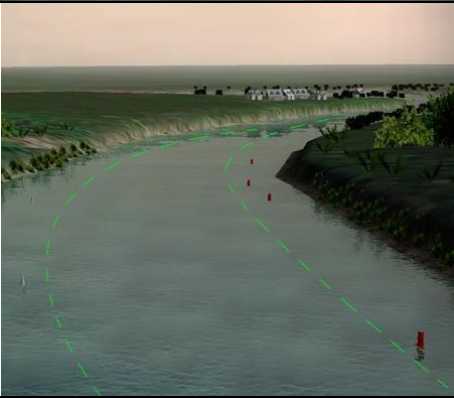
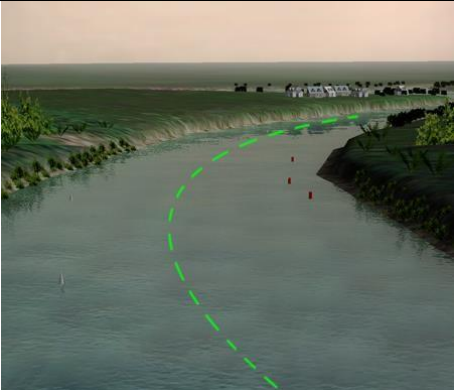
9.	Что обозначает изображенный на иллюстрации знак?		<ul style="list-style-type: none">• Судно, стоящее на якоре
10.	Что обозначает изображенный на иллюстрации знак «БРАВО» из МСС-69?		<ul style="list-style-type: none">• Судно, осуществляющее перевозку опасных грузов

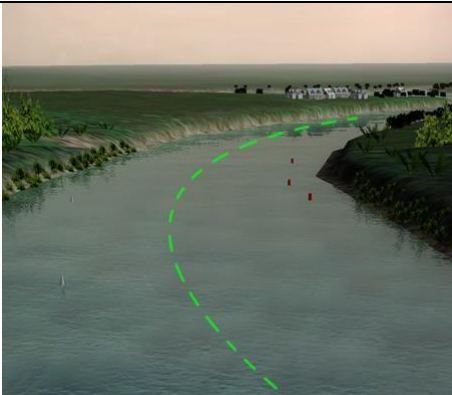


<p>11.</p>	<p>Что обозначают изображенные на иллюстрации знаки?</p>		<ul style="list-style-type: none"> • Судно, лишенное возможности управляться
<p>12.</p>	<p>Что обозначает изображенный на иллюстрации знак?</p>		<ul style="list-style-type: none"> • Судно, идущее под парусом и одновременно использующее силовую (механическую) установку
<p>13.</p>	<p>Что обозначают изображенные на иллюстрации плавучие навигационные знаки?</p>		<ul style="list-style-type: none"> • Необходимость обойти знак со стороны севера




<p>14.</p>	<p>Что обозначают желтые поплавки или желтые флаги, расставленные на поверхности воды в непосредственной близости от судового хода?</p>		<ul style="list-style-type: none"> • Рыболовные сети
<p>15.</p>	<p>Что означают непрерывно повторяющиеся продолжительные сигналы либо непрерывные частые удары в колокол или металлический предмет, подаваемые судном?</p>		<ul style="list-style-type: none"> • Сигнал бедствия
<p>16.</p>	<p>Какие действия должно предпринять судно, которому уступают дорогу?</p>		<ul style="list-style-type: none"> • Сохранить свои курс и скорость



17.	Должно ли маломерное моторное судно на ходу уступить дорогу парусному судну?		<ul style="list-style-type: none">• Должно в любом случае
18.	По какому борту одно маломерное судно должно обгонять другое маломерное судно?		<ul style="list-style-type: none">• По левому борту обгоняемого судна
19.	Если два маломерных моторных судна идут пересекающимися курсами так, что возникает опасность столкновения, какое судно должно уступить дорогу другому судну?		<ul style="list-style-type: none">• Судно, которое наблюдает другое судно по своему правому борту

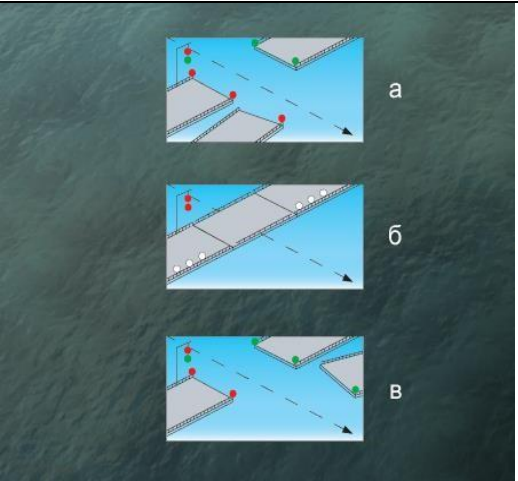
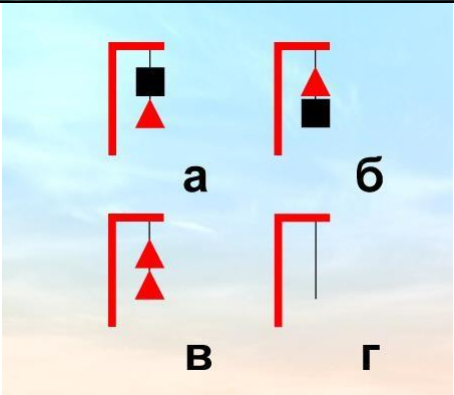
<p>20.</p>	<p>Как должны маневрировать маломерные суда для расхождения друг с другом на акватории, не имеющей судоходной обстановки?</p>		<ul style="list-style-type: none"> • Так, чтобы разойтись левыми бортами
<p>21.</p>	<p>Что запрещается маломерным судам при плавании по ВВП?</p>		<ul style="list-style-type: none"> • Маневрировать и останавливаться вблизи идущих или стоящих других судов; Останавливаться и становиться на якорь в пределах судового хода и у плавучих навигационных знаков; Выходить на судовой ход при ограниченной видимости (менее 1 км).
<p>22.</p>	<p>В каком из следующих случаев не разрешается пользоваться маломерным судном?</p>		<ul style="list-style-type: none"> • У судоводителя нет при себе удостоверения на право управления судном; Маломерное судно не зарегистрировано в установленном порядке; На маломерном судне отсутствует судовой билет

<p>23.</p>	<p>На каком расстоянии от кромки судового хода должно следовать маломерное судно по судовому ходу, если нет возможности следовать за кромкой судового хода?</p>		<ul style="list-style-type: none"> • На расстоянии до 10 м от кромки судового хода
<p>24.</p>	<p>Как называется условная линия, ограничивающая судовой ход по ширине?</p>		<ul style="list-style-type: none"> • Кромка
<p>25.</p>	<p>Как называется условная линия, проходящая в средней части судового хода?</p>		<ul style="list-style-type: none"> • Ось судового хода

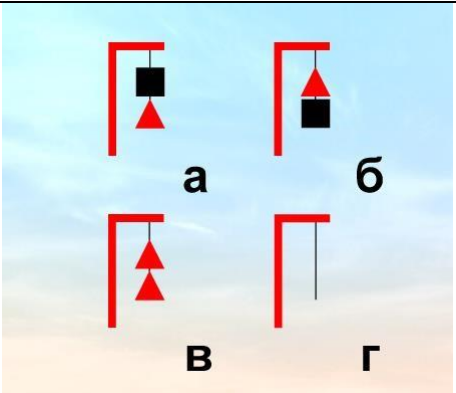


<p>26.</p>	<p>Как называется часть водного пространства на внутренних водных путях, предназначенная для движения судов и обозначенная на местности и (или) карте?</p>		<ul style="list-style-type: none"> • Судовой ход
<p>27.</p>	<p>Что обозначает кромочный створ?</p>		<ul style="list-style-type: none"> • Кромку судового хода
<p>28.</p>	<p>Что обозначает изображенный на иллюстрации береговой навигационный информационный знак?</p>		<ul style="list-style-type: none"> • Пост судоводной инспекции




<p>29.</p>	<p>Определите высоту судоходного пролета этого моста?</p>		<ul style="list-style-type: none"> • До 10 метров
<p>30.</p>	<p>Как называется изображенный на иллюстрации береговой навигационный знак и что он обозначает?</p>		<ul style="list-style-type: none"> • Весенний знак правого берега, обозначает затопленный берег
<p>31.</p>	<p>Что обозначает изображенный на иллюстрации береговой навигационный знак "Ориентир"?</p>		<ul style="list-style-type: none"> • Характерное место судоходного пути




<p>32.</p>	<p>Укажите береговой навигационный информационный знак, запрещающий создавать волнение?</p>		<ul style="list-style-type: none"> • Г
<p>33.</p>	<p>Где выставляется изображенный на иллюстрации береговой навигационный знак "Ориентир"?</p>		<ul style="list-style-type: none"> • На правом берегу

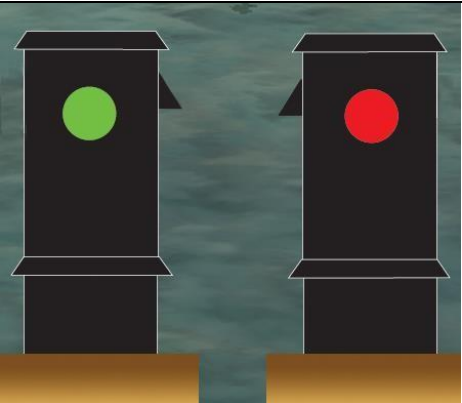
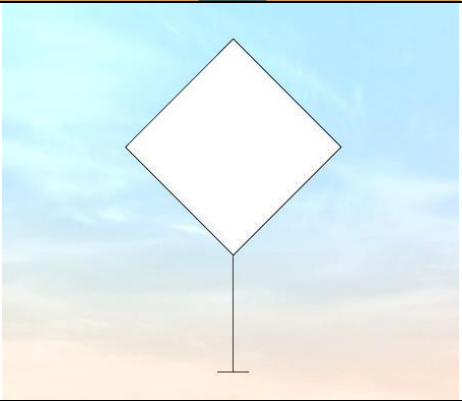
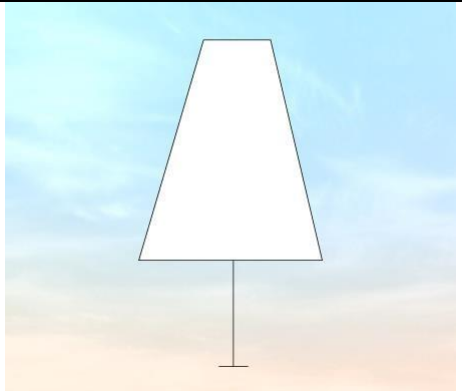
<p>34.</p>	<p>В каких из приведенных на иллюстрации случаев закрыт проход судам, идущим сверху?</p>		<ul style="list-style-type: none"> • а, б и в
<p>35.</p>	<p>Какое из изображенных на иллюстрации сочетаний сигнальных фигур на семафорной мачте запрещает проход вверх?</p>		<ul style="list-style-type: none"> • а, в, г


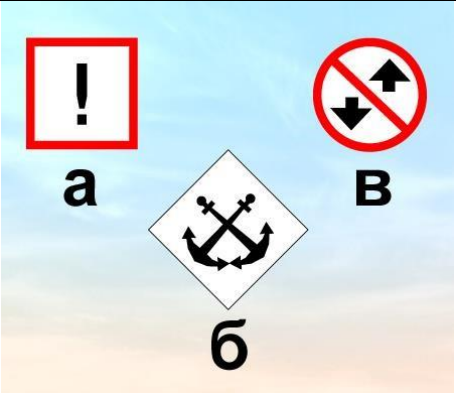
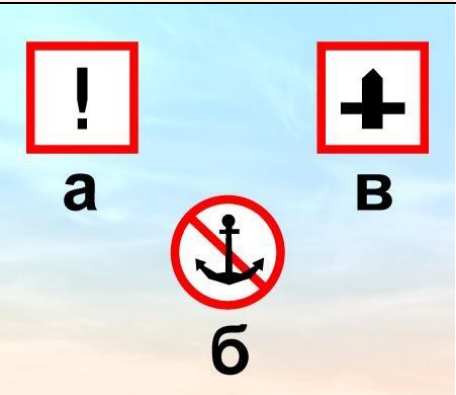
<p>36.</p>	<p>Какой из изображенных на иллюстрации береговых навигационных информационных знаков предупреждает о необходимости соблюдать особую осторожность?</p>		<ul style="list-style-type: none"> • а
<p>37.</p>	<p>Как называется створ из трех знаков, который указывает положение судового хода и его кромки ?</p>		<ul style="list-style-type: none"> • Щелевой
<p>38.</p>	<p>Какой из этих береговых навигационных информационных знаков обозначает, что на данном участке судового хода обгон и расхождение судов запрещены?</p>		<ul style="list-style-type: none"> • б

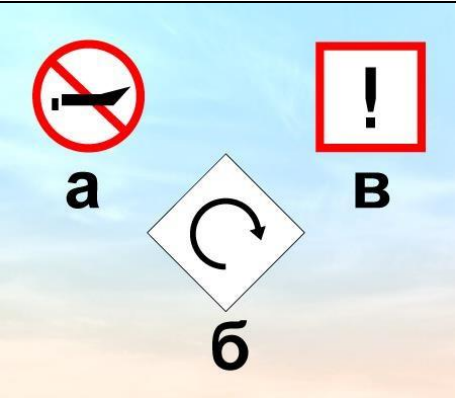
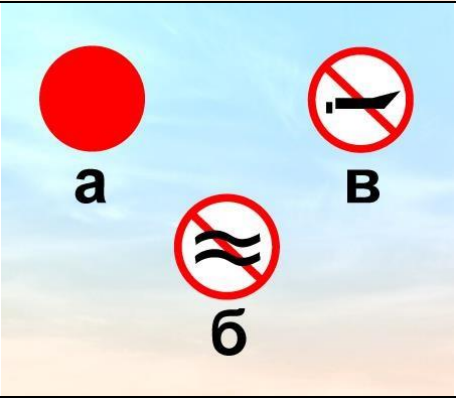
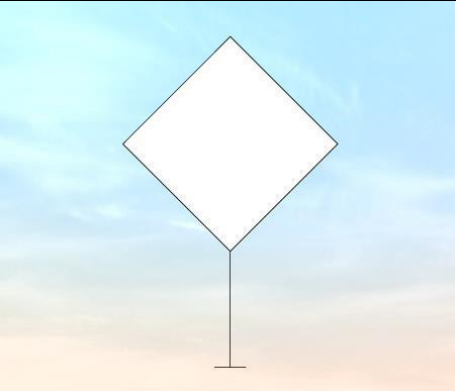
<p>39.</p>	<p>Какие из изображенных сочетаний сигнальных фигур на семафорной мачте запрещают судам, следующим по течению, проход на участке с односторонним движением?</p>		<ul style="list-style-type: none"> • б, в, г
<p>40.</p>	<p>Какой из изображенных на иллюстрации береговых навигационных информационных знаков выставляется в районах надводных и мостовых переходов для указания минимальной габаритной высоты?</p>		<ul style="list-style-type: none"> • в
<p>41.</p>	<p>Что обозначает изображенный на иллюстрации береговой навигационный знак?</p>		<ul style="list-style-type: none"> • Правый берег при входе в канал, на акваторию порта, затона



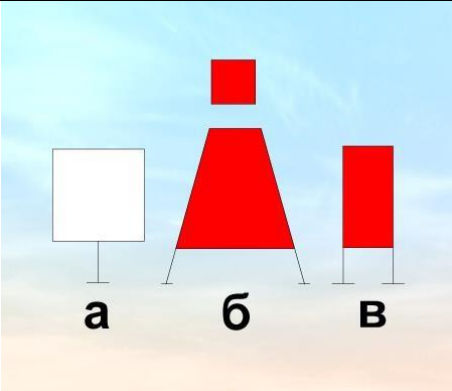
42.	Как называется изображенный на иллюстрации береговой навигационный знак?		<ul style="list-style-type: none">• Ориентир
43.	Как называется изображенный на иллюстрации береговой навигационный знак?		<ul style="list-style-type: none">• Опознавательный знак левого берега
44.	Что обозначает изображенный на иллюстрации береговой информационный знак?		<ul style="list-style-type: none">• Высота надводного перехода 15 м


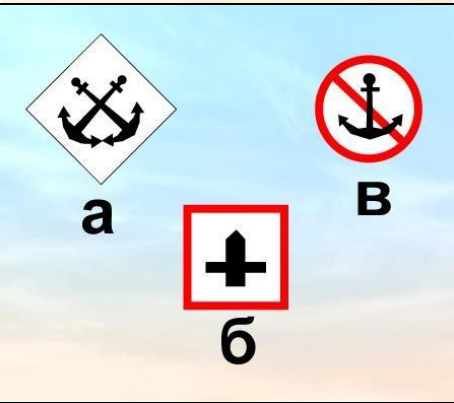

<p>45.</p>	<p>Что обозначает изображенный на иллюстрации береговой навигационный знак, установленный на левом берегу?</p>		<ul style="list-style-type: none"> • Характерное (приметное) место судоходного пути
<p>46.</p>	<p>Что обозначает изображенный на иллюстрации береговой навигационный знак?</p>		<ul style="list-style-type: none"> • Смена направления судового хода
<p>47.</p>	<p>Что обозначают изображенные на иллюстрации береговые навигационные знаки?</p>		<ul style="list-style-type: none"> • Судовой ход расположен у правого берега



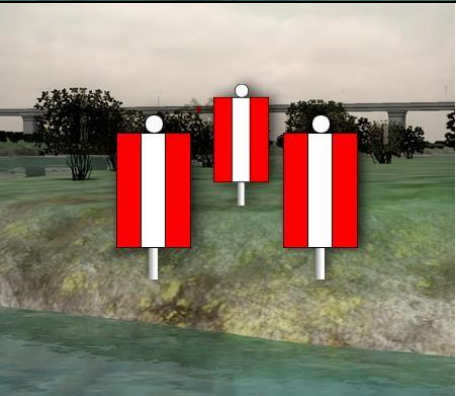
48.	Что обозначают изображенные на иллюстрации береговые навигационные знаки?		<ul style="list-style-type: none">• Берега судоходного канала
49.	Где выставляется изображенный на иллюстрации береговой навигационный знак?		<ul style="list-style-type: none">• На левом берегу
50.	Где выставляется изображенный на иллюстрации береговой навигационный знак?		<ul style="list-style-type: none">• На затопленной бровке яра



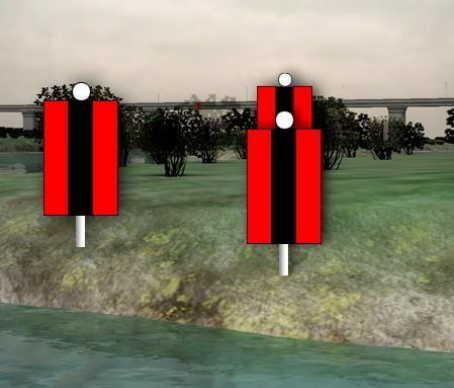
<p>51.</p>	<p>Что означает изображенное на иллюстрации сочетание огней на семафорной мачте?</p>		<ul style="list-style-type: none"> • Ход закрыт сверху и снизу
<p>52.</p>	<p>Какой из изображенных на иллюстрации береговых навигационных информационных знаков запрещает отдавать якоря?</p>		<ul style="list-style-type: none"> • Такого знака здесь нет
<p>53.</p>	<p>Какой из изображенных на иллюстрации береговых навигационных информационных знаков запрещает отдавать якоря?</p>		<ul style="list-style-type: none"> • б




<p>54.</p>	<p>Какой из изображенных на иллюстрации береговых навигационных информационных знаков запрещает создавать волнение?</p>		<ul style="list-style-type: none"> • Такого знака здесь нет
<p>55.</p>	<p>Какой из изображенных на иллюстрации береговых навигационных знаков запрещает создавать волнение?</p>		<ul style="list-style-type: none"> • б
<p>56.</p>	<p>Изображенный на иллюстрации береговой навигационный знак означает, что судовой ход проходит ...</p>		<ul style="list-style-type: none"> • У левого берега




<p>57.</p>	<p>Для прохода каких судов предназначен изображенный на иллюстрации пролет моста?</p>		<ul style="list-style-type: none"> • Для маломерных судов
<p>58.</p>	<p>Как называются изображенные на иллюстрации береговые навигационные знаки, выставленные при входе в канал?</p>		<ul style="list-style-type: none"> • Опознавательные знаки
<p>59.</p>	<p>Какой из изображенных на иллюстрации береговых навигационных знаков обозначает направление судового хода?</p>		<ul style="list-style-type: none"> • а, б, в




<p>60.</p>	<p>Какой из изображенных на иллюстрации береговых навигационных информационных знаков запрещает движение маломерных судов?</p>		<ul style="list-style-type: none"> • а
<p>61.</p>	<p>Какой из изображенных на иллюстрации береговых навигационных информационных знаков обозначает место базирования подразделения судходной инспекции?</p>		<ul style="list-style-type: none"> • а
<p>62.</p>	<p>Где находится судно относительно оси судового хода, если судоводитель наблюдает такое расположение створа?</p>		<ul style="list-style-type: none"> • Правее оси




<p>63.</p>	<p>Где находится судно относительно оси судового хода, если судоводитель наблюдает такое расположение створа?</p>		<ul style="list-style-type: none"> • Левее оси
<p>64.</p>	<p>Где находится судно относительно оси судового хода, если судоводитель наблюдает такое расположение створа?</p>		<ul style="list-style-type: none"> • Правее оси
<p>65.</p>	<p>Где находится судно относительно судового хода, если судоводитель наблюдает такое расположение створа?</p>		<ul style="list-style-type: none"> • На судовом ходу




<p>66.</p>	<p>Где находится судно относительно судового хода, если судоводитель наблюдает такое расположение створа?</p>		<ul style="list-style-type: none"> • На судовом ходу
<p>67.</p>	<p>Где находится судно относительно оси судового хода, если судоводитель наблюдает такое расположение створа?</p>		<ul style="list-style-type: none"> • На левой по ходу кромке судового хода
<p>68.</p>	<p>Где находится судно относительно оси судового хода, если судоводитель наблюдает такое расположение створа?</p>		<ul style="list-style-type: none"> • На правой по ходу кромке судового хода




<p>69.</p>	<p>Где находится судно относительно судового хода, если судоводитель наблюдает такое расположение створа?</p>		<ul style="list-style-type: none"> • За левой по ходу кромкой судового хода
<p>70.</p>	<p>Где находится судно относительно судового хода, если судоводитель наблюдает такое расположение створа?</p>		<ul style="list-style-type: none"> • За правой по ходу кромкой судового хода
<p>71.</p>	<p>Где находится судно относительно судового хода, если судоводитель наблюдает такое расположение створа?</p>		<ul style="list-style-type: none"> • На правой по ходу кромке судового хода




72.	<p>Что обозначает изображенный на иллюстрации плавучий навигационный знак?</p>		<ul style="list-style-type: none"> • Левую кромку судового хода
73.	<p>С какой стороны необходимо обойти изображенный на иллюстрации плавучий навигационный знак?</p>		<ul style="list-style-type: none"> • С S (юга)
74.	<p>Укажите плавучий навигационный знак, обозначающий ось судового хода?</p>		<ul style="list-style-type: none"> • а




75.	Укажите поворотный знак на правой кромке судового хода?		<ul style="list-style-type: none"> • г
76.	В каком месте выставляется изображенный на иллюстрации плавучий навигационный знак системы МАМС?		<ul style="list-style-type: none"> • Над отдельной опасностью малых размеров
77.	В какой стороне необходимо оставить изображенный на иллюстрации навигационный знак в устье крупной реки?		<ul style="list-style-type: none"> • К востоку




78.	Какой из изображенных на иллюстрации плавучих навигационных знаков выставляется на левой кромке судового хода?		<ul style="list-style-type: none"> • а, б, в, г
79.	Какой из изображенных на иллюстрации плавучих навигационных знаков выставляется над отдельной опасностью малых размеров в морских устьях рек?		<ul style="list-style-type: none"> • б
80.	В какой стороне необходимо оставить изображенный на иллюстрации плавучий навигационный знак, выставленный в морском устье реки?		<ul style="list-style-type: none"> • К югу




<p>81.</p>	<p>Какой из изображенных на иллюстрации плавучих навигационных знаков обозначает особо опасное место у правой кромки судового хода?</p>		<ul style="list-style-type: none"> • в
<p>82.</p>	<p>Какой из изображенных на иллюстрации плавучих навигационных знаков, выставляемых в морских устьях рек, ограждает опасность с юга?</p>		<ul style="list-style-type: none"> • в
<p>83.</p>	<p>Какой из изображенных на иллюстрации плавучих навигационных знаков обозначает поворот оси судового хода и называется поворотно-осевым?</p>		<ul style="list-style-type: none"> • б


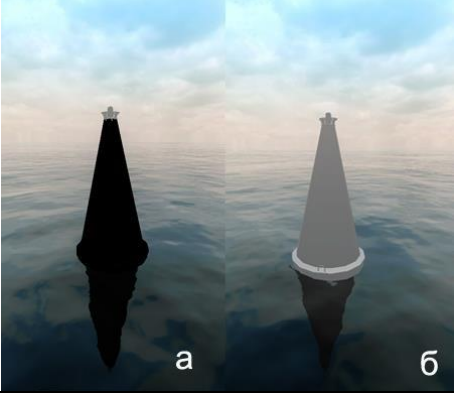

<p>84.</p>	<p>В какой стороне необходимо оставить изображенный на иллюстрации плавучий навигационный знак, выставленный в морском устье реки?</p>		<ul style="list-style-type: none"> • К западу
<p>85.</p>	<p>Какой из изображенных на иллюстрации плавучих навигационных знаков называется "Свальный"?</p>		<ul style="list-style-type: none"> • а
<p>86.</p>	<p>Какой из изображенных на иллюстрации плавучих навигационных знаков выставляется непосредственно над оконечностью препятствия (опасности) со стороны судового хода на левой кромке?</p>		<ul style="list-style-type: none"> • а




<p>87.</p>	<p>Какой из изображенных на иллюстрации плавучих навигационных знаков называется "Осевой"?</p>		<ul style="list-style-type: none"> • в
<p>88.</p>	<p>Какой из изображенных на иллюстрации плавучих навигационных знаков называется "Свальный"?</p>		<ul style="list-style-type: none"> • Такого знака здесь нет
<p>89.</p>	<p>Какой из изображенных на иллюстрации плавучих навигационных знаков называется "Свальный"?</p>		<ul style="list-style-type: none"> • в




<p>90.</p>	<p>Какой из изображенных на иллюстрации плавучих навигационных знаков называется "Разделительный"?</p>		<ul style="list-style-type: none"> • б
<p>91.</p>	<p>Какой из изображенных на иллюстрации плавучих навигационных знаков называется "Кромочный"?</p>		<ul style="list-style-type: none"> • Такого знака здесь нет
<p>92.</p>	<p>Какой из изображенных на иллюстрации плавучих навигационных знаков называется "Знак опасности"?</p>		<ul style="list-style-type: none"> • б

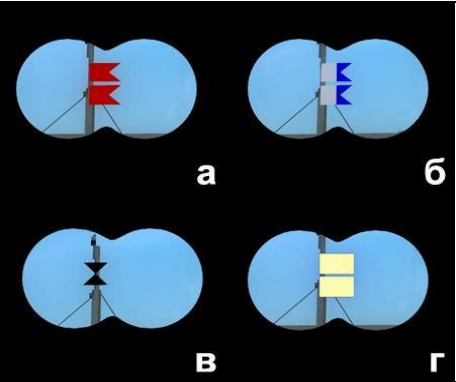
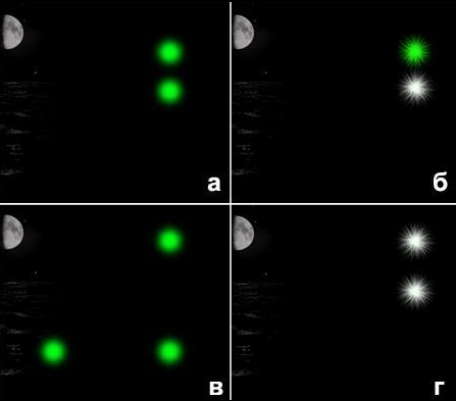

<p>93.</p>	<p>Какой из изображенных на иллюстрации плавучих навигационных знаков называется "Знак опасности"?</p>		<ul style="list-style-type: none"> • в
<p>94.</p>	<p>Какой цвет огня имеет кромочный знак, устанавливающийся на левой кромке судового хода?</p>		<ul style="list-style-type: none"> • Белый или зеленый
<p>95.</p>	<p>Какой цвет огня имеет свальный знак, устанавливающийся на правой кромке судового хода?</p>		<ul style="list-style-type: none"> • Красный




96.	Какой цвет огня имеет знак опасности, устанавливающийся на левой кромке судового хода?		<ul style="list-style-type: none">• Зеленый
97.	Какой цвет огня имеет знак опасности, устанавливающийся на правой кромке судового хода?		<ul style="list-style-type: none">• Красный
98.	Какой цвет огня имеет кромочный знак, устанавливающийся на правой кромке судового хода?		<ul style="list-style-type: none">• Красный



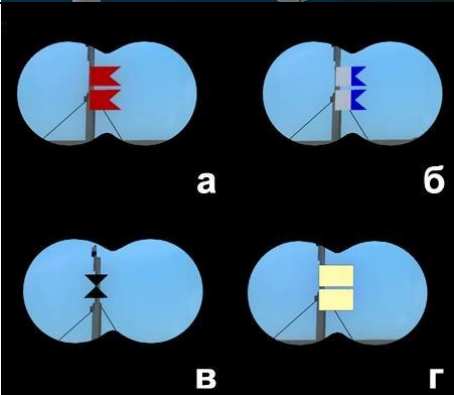
<p>99.</p>	<p>С какого борта маломерное судно должно оставлять изображенные на иллюстрации знаки, следуя вниз за пределами левой кромки судового хода?</p>		<ul style="list-style-type: none"> • С правого "а" и "б"
<p>100.</p>	<p>С какого борта маломерное судно должно оставлять изображенные на иллюстрации знаки, следуя вверх за пределами левой кромки судового хода?</p>		<ul style="list-style-type: none"> • С левого "а" и "б"
<p>101.</p>	<p>С какого борта маломерное судно должно оставлять изображенное на иллюстрации плавучий навигационный знак, следуя вниз за пределами правой кромки судового хода?</p>		<ul style="list-style-type: none"> • С левого

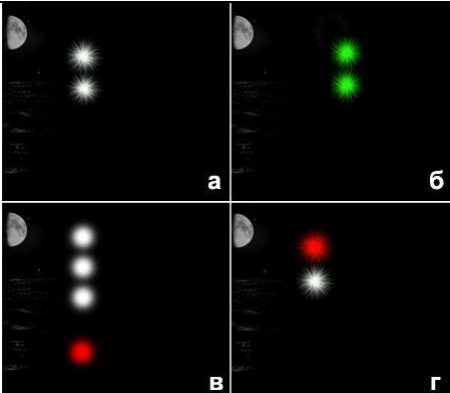

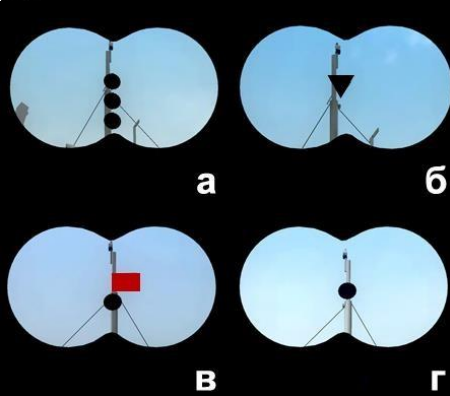
<p>102.</p>	<p>С какого борта маломерное судно должно оставлять изображенные на иллюстрации плавучие навигационные знаки, следуя вверх за пределами правой кромки судового хода?</p>		<ul style="list-style-type: none"> • С правого "а" и "б"
<p>103.</p>	<p>Какой из изображенных на иллюстрации плавучих навигационных знаков выставляется непосредственно над оконечностью опасности со стороны судового хода на правой кромке?</p>		<ul style="list-style-type: none"> • г
<p>104.</p>	<p>С какого борта маломерное судно должно оставлять изображенные на иллюстрации знаки, следуя вверх по судовому ходу вдоль правой по ходу кромки в пределах до 10 м от нее?</p>		<ul style="list-style-type: none"> • С правого "а" и "б"




105.	Какую длину имеет изображенное на иллюстрации парусное судно?		<ul style="list-style-type: none"> • 20 м и более
106.	Что означает поднятый на судне сигнал?		<ul style="list-style-type: none"> • Судно терпит бедствие и нуждается в помощи
107.	Укажите огни судна, буксирующего плот.		<ul style="list-style-type: none"> • г




108.	Какое из изображенных на иллюстрации судов занято ловом рыбы?		• в
109.	Укажите огни судна, занятого ловом рыбы.		• б
110.	Укажите огни судна, занятого ловом рыбы.		• г



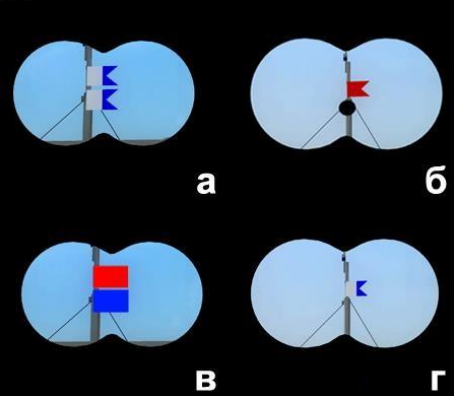
111.	В каком направлении движется судно с огнями, приведенными на иллюстрации?		<ul style="list-style-type: none"> • Идет на нас
112.	Что означает изображенный на иллюстрации знак, выставленный на парусном судне?		<ul style="list-style-type: none"> • Судно идет под парусом и мотором одновременно
113.	Какое из перечисленных судов несет изображенные на иллюстрации огни?		<ul style="list-style-type: none"> • Парусное судно длиной 20 м и более




<p>114.</p>	<p>Какое из перечисленных судов несет изображенные на иллюстрации огни?</p>		<ul style="list-style-type: none"> • Самоходное судно длиной менее 50 м идет влево
<p>115.</p>	<p>Что означает знак, выставленный на судне?</p>		<ul style="list-style-type: none"> • Судно стоит на якоре
<p>116.</p>	<p>Какое из изображенных на иллюстрации судов занято водолазными работами?</p>		<ul style="list-style-type: none"> • б

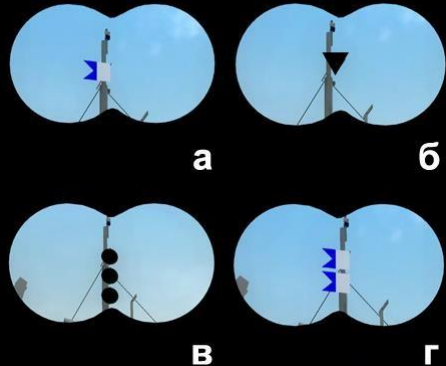


117.	Укажите огни судна, занятого водолазными работами.		<ul style="list-style-type: none"> • б
118.	Какое из перечисленных судов должно нести изображенные на иллюстрации огни?		<ul style="list-style-type: none"> • Самоходное (судно с механическим мотором) или парусное судно длиной менее 50м, идущее под мотором
119.	Какой из изображенных на иллюстрации сигналов несет судно, терпящее бедствие?		<ul style="list-style-type: none"> • в



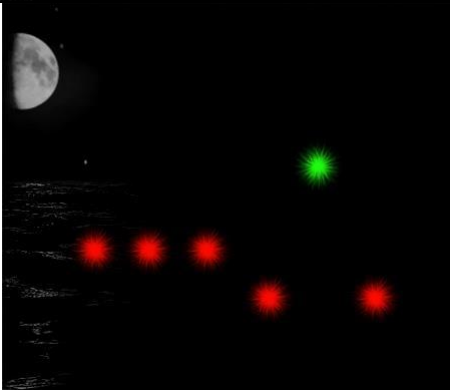
<p>120.</p>	<p>Укажите огни пассажирского судна, работающего на переправе?</p>		<ul style="list-style-type: none"> • б
<p>121.</p>	<p>Что означает звуковой сигнал из трех продолжительных звуков?</p>		<ul style="list-style-type: none"> • Человек за бортом
<p>122.</p>	<p>Что означает звуковой сигнал – серия, не менее пяти коротких звуков?</p>		<ul style="list-style-type: none"> • Предупреждение


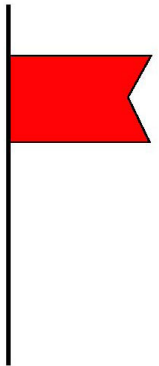
<p>123.</p>	<p>Какое значение имеет звуковой сигнал из четырех коротких звуков?</p>		<ul style="list-style-type: none"> • Я намереваюсь сделать оборот
<p>124.</p>	<p>Какое судно из перечисленных должно нести ночью изображенные на иллюстрации огни на ходу?</p>		<ul style="list-style-type: none"> • Парусное, идущее под мотором
<p>125.</p>	<p>Укажите огни одиночного самоходного судна, которое следует на нас?</p>		<ul style="list-style-type: none"> • б




126.	Чем занято судно с изображенными на иллюстрации огнями?		<ul style="list-style-type: none"> • Стоит на якоре
127.	Как движется это судно по отношению к наблюдателю?		<ul style="list-style-type: none"> • Идет влево
128.	Какой из изображенных на иллюстрации сигналов несет днем судно, занятое водолазными работами?		<ul style="list-style-type: none"> • а

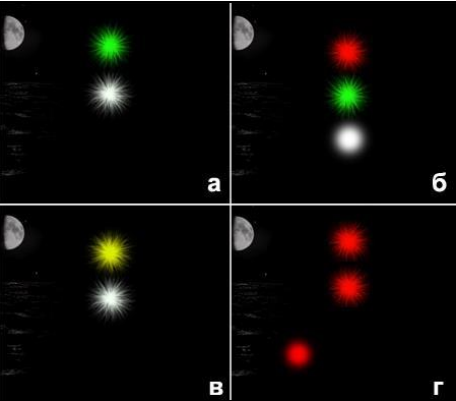


<p>129.</p>	<p>Определите, какому виду (типу) плавсредств принадлежит изображенная на иллюстрации ночная сигнализация?</p>		<ul style="list-style-type: none"> • Дноуглубительный снаряд
<p>130.</p>	<p>Какое судно несет на наиболее видном месте сигнал - черный конус вершиной вниз?</p>		<ul style="list-style-type: none"> • Судно, идущее под парусом и одновременно использующее силовую механическую установку
<p>131.</p>	<p>Какие из перечисленных сигналов может подавать терпящее бедствие судно, которое просит о помощи?</p>		<ul style="list-style-type: none"> • Ракеты красного цвета; Частое мигание круговым огнем или вертикальное перемещение огня; Медленное повторяемое поднятие и опускание вытянутыми в сторону руками


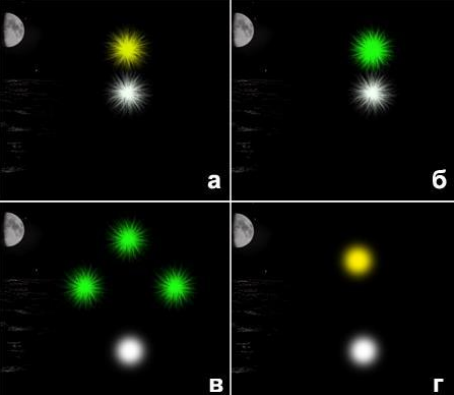

<p>132.</p>	<p>Укажите сигнал, выставляемый днем на стоящем на мели судне, со стороны, с которой проход других судов невозможен?</p>		<ul style="list-style-type: none"> • в
<p>133.</p>	<p>Какое из перечисленных маломерных судов на ходу показывает белый круговой огонь при приближении к нему других судов?</p>		<ul style="list-style-type: none"> • Шлюпки судов
<p>134.</p>	<p>Какой звуковой сигнал должно подавать одиночное самоходное судно на якоре или на мели при ограниченной (менее 1 км) видимости?</p>		<ul style="list-style-type: none"> • Один короткий, один продолжительный и один короткий звуки




135.	Через сколько метров должны обозначаться круговыми огнями (красными - у правого берега, белыми или желтыми, или зелеными - у левого берега) сети, поставленные в непосредственной близости от судового хода?		<ul style="list-style-type: none"> • Через 100 м
136.	Какое судно несет изображенные на иллюстрации огни?		<ul style="list-style-type: none"> • Паром канатной переправы
137.	Какое судно несет изображенные на иллюстрации огни?		<ul style="list-style-type: none"> • Рефулерный снаряд при отвале грунта к правому берегу

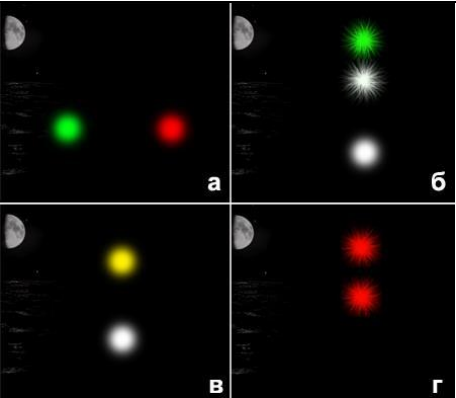


138.	Какое судно несет изображенный на иллюстрации сигнал?		<ul style="list-style-type: none">• Самоходный дноуглубительный снаряд с волочащимся грунтоподъемником на ходу
139.	Какое судно несет изображенный на иллюстрации сигнал?		<ul style="list-style-type: none">• Судно с опасными грузами



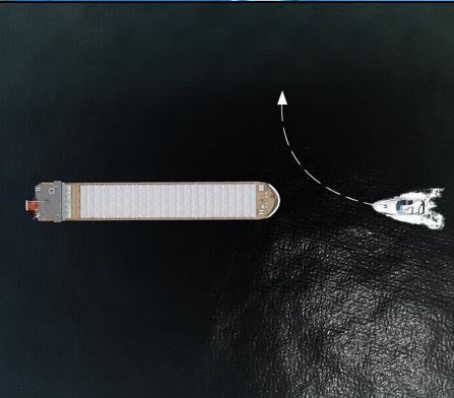
140.	Какое значение имеет звуковой сигнал из одного короткого звука?		<ul style="list-style-type: none">• Я изменяю свой курс вправо
141.	Какое значение имеет звуковой сигнал из двух коротких звуков?		<ul style="list-style-type: none">• Я изменяю свой курс влево
142.	Какое значение имеет звуковой сигнал из трех коротких звука?		<ul style="list-style-type: none">• Мои движители работают на задний ход




143.	Какие из изображенных на иллюстрации огней принадлежат судну, лишенному возможности управляться?		<ul style="list-style-type: none"> • г
144.	Что обозначают изображенные на иллюстрации круговые огни, выставленные в непосредственной близости от судового хода?		<ul style="list-style-type: none"> • Рыболовные сети у левой кромки судового хода
145.	Что обозначают изображенные на иллюстрации круговые огни, выставленные в непосредственной близости от судового хода?		<ul style="list-style-type: none"> • Рыболовные сети у правой кромки судового хода




<p>146.</p>	<p>Какой из звуковых сигналов в условиях ограниченной видимости подает одиночное судно на якоре?</p>		<ul style="list-style-type: none"> • б
<p>147.</p>	<p>Какие из изображенных на иллюстрации огней принадлежат парому канатной переправы?</p>		<ul style="list-style-type: none"> • а
<p>148.</p>	<p>Какие из круговых огней выставляются у левой кромки судового хода для обозначения рыболовных сетей?</p>		<ul style="list-style-type: none"> • Зеленые, белые или желтые

<p>149.</p>	<p>Что обозначают выставленные в непосредственной близости от судового хода желтые поплавки или желтые флаги?</p>		<ul style="list-style-type: none"> • Рыболовные сети
<p>150.</p>	<p>Какой цвет должны иметь круговые огни, выставляемые у левой кромки судового хода для обозначения рыболовных сетей?</p>		<ul style="list-style-type: none"> • Белые, зеленые или желтые
<p>151.</p>	<p>Какие из круговых огней выставляются у левой кромки судового хода для обозначения места работы водолазного судна?</p>		<ul style="list-style-type: none"> • Таких огней на рисунке нет




152.	Какие из указанных огней принадлежат судну, лишенному возможности управляться и не имеющему хода относительно воды?		<ul style="list-style-type: none"> • г
153.	Какое значение имеет звуковой сигнал - один продолжительный звук, подаваемый судном в условиях ограниченной видимости?		<ul style="list-style-type: none"> • Одиночные суда в движении
154.	Какое значение имеет звуковой сигнал - 1 короткий, 1 продолжительный и 1 короткий звуки, подаваемый судном в условиях ограниченной видимости?		<ul style="list-style-type: none"> • Одиночные суда или составы на якоре или на мели в пределах судового хода




<p>155.</p>	<p>Какое значение имеет звуковой сигнал - частые удары в колокол или металлический предмет, подаваемый судном в условиях ограниченной видимости?</p>		<ul style="list-style-type: none"> • Несамостоятельное судно с экипажем на якорю или на мели в пределах судового хода
<p>156.</p>	<p>Какие действия должен предпринять судоводитель маломерного судна на участке на одностороннем перекате?</p>		<ul style="list-style-type: none"> • Проследовать через перекаат, соблюдая осторожность, оставив красный буй справа
<p>157.</p>	<p>Какое из перечисленных действий необходимо предпринять судоводителю маломерного судна, уступая дорогу немалому судну?</p>		<ul style="list-style-type: none"> • Уступить дорогу без подачи сигналов



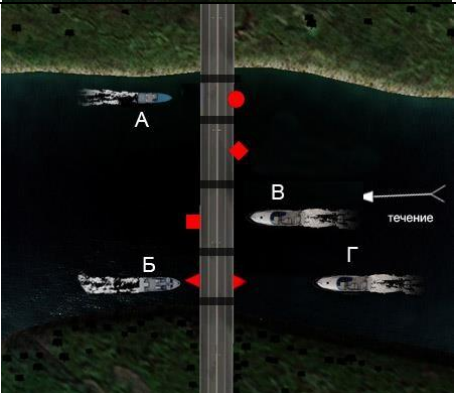
<p>158.</p>	<p>В каких пределах маломерное судно может следовать по судовому ходу вдоль правой по ходу кромки, если по условиям пути следовать за пределами судового хода невозможно?</p>		<ul style="list-style-type: none"> • До 10 м
<p>159.</p>	<p>Какое из маломерных судов нарушило ППВВП?</p>		<ul style="list-style-type: none"> • Б
<p>160.</p>	<p>Какое из маломерных судов нарушило ППВВП?</p>		<ul style="list-style-type: none"> • А и Б




<p>161.</p>	<p>Какое из маломерных судов не нарушает ППВВП?</p>		<ul style="list-style-type: none"> • Только В •
<p>162.</p>	<p>Какое из маломерных судов нарушает ППВВП?</p>		<ul style="list-style-type: none"> • А и Б
<p>163.</p>	<p>Как называется условная линия, ограничивающая судовой ход по ширине?</p>		<ul style="list-style-type: none"> • Кромка судового хода




<p>164.</p>	<p>Какое из судов имеет приоритет при расхождении в данной ситуации?</p>		<ul style="list-style-type: none"> • А
<p>165.</p>	<p>С какого борта моторное судно "А" должно оставить при обгоне моторное судно "Б", согласно требованиям ППВВП?</p>		<ul style="list-style-type: none"> • С правого
<p>166.</p>	<p>Какие действия должен предпринять судоводитель маломерного судна "В"?</p>		<ul style="list-style-type: none"> • Осуществить пропуск судов "А" и "Б"




<p>167.</p>	<p>Какое из маломерных судов не нарушает ППВВП при проходе под мостом?</p>		<ul style="list-style-type: none"> • Только Б
<p>168.</p>	<p>Какое из маломерных судов нарушило ППВВП в части стоянки и постановки на якорь?</p>		<ul style="list-style-type: none"> • А, Г и В
<p>169.</p>	<p>Какой из катеров, буксирующих другие суда, не нарушает ППВВП в данной ситуации?</p>		<ul style="list-style-type: none"> • А и Б

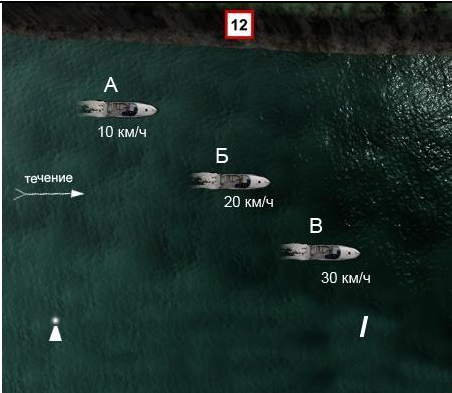


<p>170.</p>	<p>Какие действия должен предпринять судоводитель в случае неуверенности в оценке ситуации?</p>		<ul style="list-style-type: none"> • Уменьшить ход или прекратить движение судна
<p>171.</p>	<p>Какому из маломерных судов "А" и "В" должно уступить дорогу парусное судно "Б"?</p>		<ul style="list-style-type: none"> • Ни одному из судов
<p>172.</p>	<p>Как называется часть судового хода между его осью и правой или левой кромкой судового хода?</p>		<ul style="list-style-type: none"> • Полоса движения



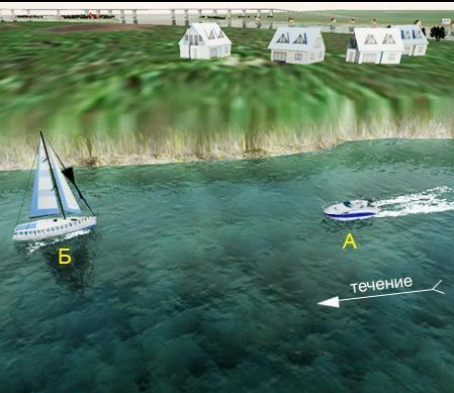
<p>173.</p>	<p>Какие действия должен предпринять судоводитель маломерного судна "А" при выходе из базы стоянки?</p>		<ul style="list-style-type: none"> • Пропустить "Б" и "В" и начать движение
<p>174.</p>	<p>Как называется судовой ход, являющийся главным по отношению к другим судовым ходам в данном районе?</p>		<ul style="list-style-type: none"> • Основной судовой ход
<p>175.</p>	<p>Какие из маломерных судов ("А", "Б", "В" и "Г") осуществляет проход под мостом в соответствии с требованиями ППВВП?</p>		<ul style="list-style-type: none"> • Б и Г




176.	Как в соответствии с ППВВП называется наименьшая скорость судна, при которой оно сохраняет управляемость?		<ul style="list-style-type: none">• Минимальная
177.	Как называется маневр, связанный с прохождением одного судна относительно другого при встречном плавании?		<ul style="list-style-type: none">• Расхождение
178.	Как называется приближение обгоняющего судна "А" к судну "Б" в направлении под углом более 22,5 градусов позади траверза впереди идущего судна?		<ul style="list-style-type: none">• Обгон



<p>179.</p>	<p>Как называется судовой ход, отходящий от основного, а затем соединяющийся с ним, а также судовой ход, отходящий от основного, и предназначенный для подхода к берегу, причалам, затонам и т.д.?</p>		<ul style="list-style-type: none"> • Дополнительный
<p>180.</p>	<p>Что должен сделать судоводитель маломерного судна при резком ухудшении видимости-если судно имеет устройство для подачи звуковых сигналов, но не оборудовано исправными радиолокационной и радиотелефонной установками?</p>		<ul style="list-style-type: none"> • Прекратить движение
<p>181.</p>	<p>Что означает в соответствии с ППВВП термин "судно на ходу"?</p>		<ul style="list-style-type: none"> • Судно, не стоящее на якорю, не ошвартованное к берегу, причалу, плавучему сооружению, другому стоящему судну и не стоящее на мели




182.	<p>Что означает в соответствии с ППВВП термин "судно на стоянке"?</p>		<ul style="list-style-type: none"> • Судно, стоящее на якоре, ошвартованное к берегу, причалу, плавучему сооружению или другому стоящему судну
183.	<p>Что означает в соответствии с ППВВП термин "безопасная скорость"?</p>		<ul style="list-style-type: none"> • Выбранная скорость, которая позволяет обеспечивать безопасное движение, маневрирование и остановку судна в пределах расстояния, требуемого сложившимися обстоятельствами
184.	<p>Что означает в соответствии с ППВВП термин "минимальная скорость"?</p>		<ul style="list-style-type: none"> • Наименьшая скорость судна, при которой оно сохраняет управляемость в данных условиях и обстоятельствах




<p>185.</p>	<p>Какие из маломерных судов нарушили ППВВП в районе действия приведенного на иллюстрации берегового информационного знака?</p>		<ul style="list-style-type: none"> • Б и В
<p>186.</p>	<p>Какие из маломерных судов нарушили ППВВП в районе действия приведенного берегового информационного знака?</p>		<ul style="list-style-type: none"> • А, Б и В
<p>187.</p>	<p>Как должен производиться обгон маломерным судном другого маломерного судна?</p>		<ul style="list-style-type: none"> • По левому борту обгоняемого судна

<p>188.</p>	<p>Какое из маломерных судов нарушило ППВВП в районе действия указанного знака?</p>		<ul style="list-style-type: none"> • Никакое
<p>189.</p>	<p>Какое (-ие) из маломерных судов ("А", "Б" и "В") осуществляет (ют) проход под мостом с нарушением ППВВП?</p>		<ul style="list-style-type: none"> • А, Б и В
<p>190.</p>	<p>Какое из маломерных судов имеет преимущество при расхождении?</p>		<ul style="list-style-type: none"> • Ни одно из них

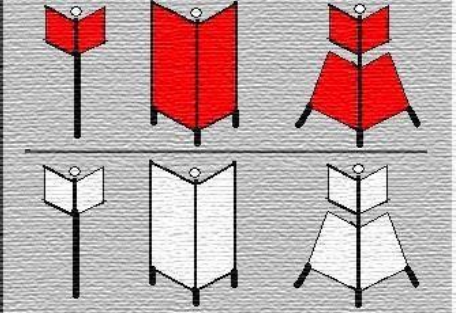
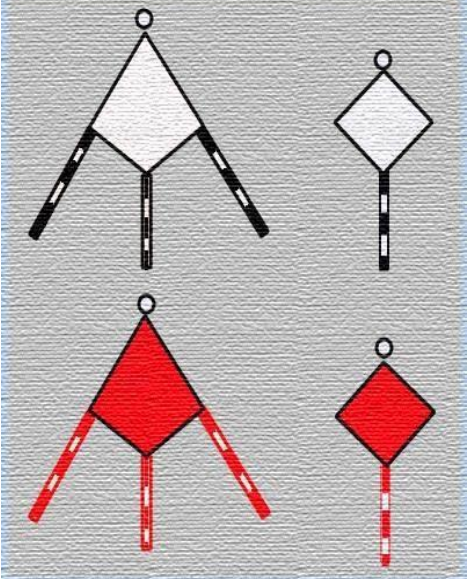
<p>191.</p>	<p>Какие, в соответствии с ППВВП, звуковые сигналы должно подавать маломерное судно при обгоне немаломерного судна?</p>		<ul style="list-style-type: none"> • Сигналы не подаются
<p>192.</p>	<p>Как в соответствии с ППВВП должен производиться обгон маломерным судном "А" немаломерного судна в данной ситуации?</p>		<ul style="list-style-type: none"> • По правому борту немаломерного судна
<p>193.</p>	<p>В каком случае маломерное судно может идти по судовому ходу вдоль правой по ходу кромки в пределах до 10 м от нее?</p>		<ul style="list-style-type: none"> • Если, по условиям пути, следование за кромкой невозможно

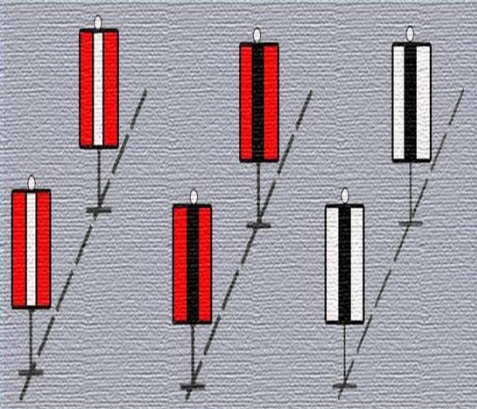


194.	<p>Как в соответствии с ППВВП называется частный случай расхождения, когда хотя бы одно из судов остановилось или уменьшило скорость до минимальной?</p>		<ul style="list-style-type: none"> • Пропуск
195.	<p>Какие действия должен предпринять судоводитель маломерного судна "А", если для него становится очевидным, что судно "Б" не предпринимает соответствующих действий для избежания столкновения?</p>		<ul style="list-style-type: none"> • должен предпринять меры для избежания столкновения собственным маневром
196.	<p>С какого борта в соответствии с ППВВП при буксировке "лагом" должно быть ошвартовано буксируемое судно по отношению к буксировщику?</p>		<ul style="list-style-type: none"> • С правого




197.	При каких условиях разрешается плавание маломерного судна при ограниченной видимости?		<ul style="list-style-type: none"> • При наличии исправных УКВ-радиостанции, компаса, туманного горна (сирены) и радиолокационной станции (РЛС)
198.	При какой видимости маломерным судам запрещается выходить на судовой ход?		<ul style="list-style-type: none"> • Менее 1,0 км
199.	В каком случае маломерному судну разрешается останавливаться или становиться на якорь в пределах судового хода?		<ul style="list-style-type: none"> • Запрещается останавливаться или становиться на якорь в пределах судового хода




<p>200.</p>	<p>Внутренние водные пути РФ. Указанный на рисунке навигационный знак – это</p>		<ul style="list-style-type: none"> • Пересечение судового хода
<p>201.</p>	<p>Огонь, устанавливаемый на навигационном знаке, ограждающем правую кромку судового хода, может быть</p>		<ul style="list-style-type: none"> • Красный
<p>202.</p>	<p>Что обозначает изображенный на иллюстрации навигационный знак?</p>		<ul style="list-style-type: none"> • Левую кромку судового хода



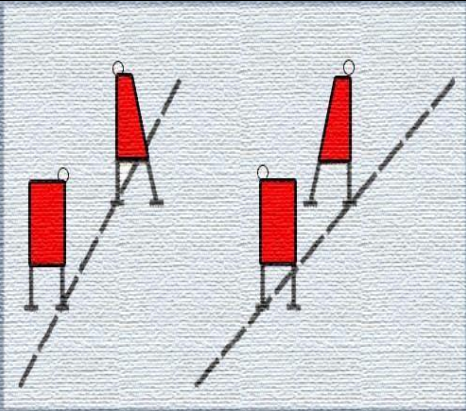
203.	Что обозначает изображенный на иллюстрации навигационный знак?			<ul style="list-style-type: none">• Поворот оси судового хода
204.	Что обозначает изображенный на иллюстрации навигационный знак?			<ul style="list-style-type: none">• Место оборота судов
205.	Что обозначает изображенный на иллюстрации навигационный знак?			<ul style="list-style-type: none">• Поворот судового хода в сторону правого берега



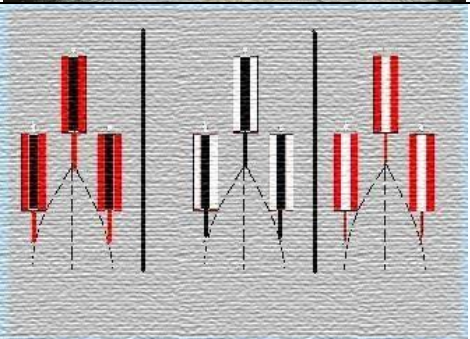
<p>206.</p>	<p>Какой навигационный знак изображен на иллюстрации?</p>		<ul style="list-style-type: none"> • Перевальный, для обозначения направления судового хода
<p>207.</p>	<p>Какой навигационный знак изображен на иллюстрации?</p>		<ul style="list-style-type: none"> • Ходовой, для обозначения судового хода, расположенного вдоль берега



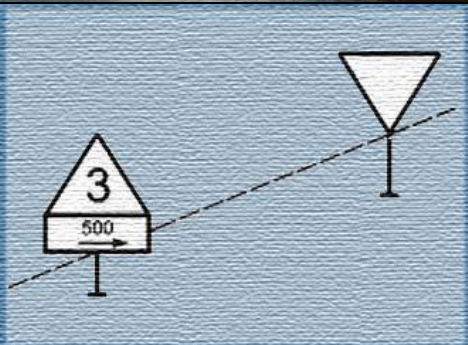
<p>208.</p>	<p>Какой навигационный знак изображен на иллюстрации?</p>		<ul style="list-style-type: none"> • Линейный (осевой) створный, для обозначения направления оси судового хода
<p>209.</p>	<p>Что обозначает изображенный на иллюстрации навигационный знак?</p>		<ul style="list-style-type: none"> • Поворот судового хода в сторону левого берега
<p>210.</p>	<p>Что обозначает изображенный на иллюстрации навигационный знак?</p>		<ul style="list-style-type: none"> • Участок ВВП, где запрещено отдавать якоря, опускать цепи, волокуши, лоты

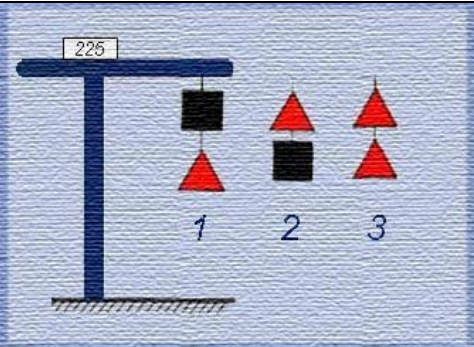


211.	Что обозначает изображенный на иллюстрации навигационный знак?		<ul style="list-style-type: none"> • Расхождение и обгон составов запрещены
212.	Что обозначает изображенный на иллюстрации навигационный знак?		<ul style="list-style-type: none"> • Свал течения на левую кромку судового хода
213.	Какой навигационный знак изображен на иллюстрации?		<ul style="list-style-type: none"> • «Ориентир», для обозначения характерных береговых мест судового хода




214.	Что обозначает изображенный на иллюстрации навигационный знак?		<ul style="list-style-type: none"> • Не создавать волнения
215.	Что обозначает изображенный на иллюстрации навигационный знак?		<ul style="list-style-type: none"> • Опасные места и навигационные препятствия у правой кромки судового хода
216.	Что обозначает изображенный на иллюстрации навигационный знак?		<ul style="list-style-type: none"> • Движение маломерных судов запрещено




217.	Что обозначает изображенный на иллюстрации навигационный знак?		<ul style="list-style-type: none"> • Пост судоходной инспекции
218.	Что обозначает изображенный на иллюстрации навигационный знак?		<ul style="list-style-type: none"> • Опасные места и навигационные препятствия у левой кромки судового хода
219.	Какой навигационный знак изображен на иллюстрации?		<ul style="list-style-type: none"> • Кромочный створный, для обозначения кромок судового хода и его направления




220.	Что обозначает изображенный на иллюстрации навигационный знак?		<ul style="list-style-type: none"> • Скорость ограничена
221.	Что обозначает изображенный на иллюстрации навигационный знак?		<ul style="list-style-type: none"> • Расхождение и обгон запрещены
222.	Какой навигационный знак изображен на иллюстрации?		<ul style="list-style-type: none"> • Щелевой створный, для обозначения положения судового хода и его кромок


223.	Что обозначает изображенный на иллюстрации навигационный знак?		<ul style="list-style-type: none"> • Левую кромку судового хода
224.	Какой навигационный знак изображен на иллюстрации?		<ul style="list-style-type: none"> • Соблюдать надводный габарит
225.	Какой навигационный знак изображен на иллюстрации?		<ul style="list-style-type: none"> • Указатель рейда

226.	Какой навигационный знак изображен на иллюстрации?		<ul style="list-style-type: none"> • Семафор
227.	Что обозначает изображенный на иллюстрации навигационный знак?		<ul style="list-style-type: none"> • Поворот судового хода в сторону левого берега
228.	Что обозначает изображенный на иллюстрации навигационный знак?		<ul style="list-style-type: none"> • Поворот оси судового хода

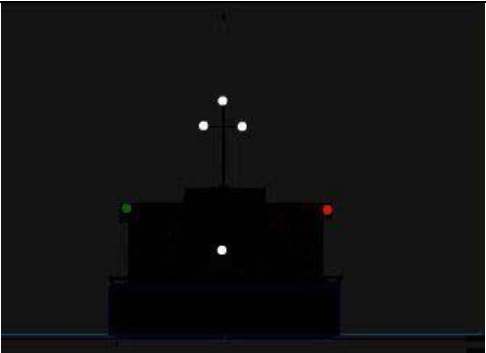

229.	Что обозначает изображенный на иллюстрации навигационный знак?			<ul style="list-style-type: none"> • Свал течения на правую кромку судового хода
230.	Что обозначает изображенный на иллюстрации навигационный знак?			<ul style="list-style-type: none"> • Разделение судового хода
231.	Что обозначает изображенный на иллюстрации навигационный знак?			<ul style="list-style-type: none"> • Разделение судового хода


232.	Что обозначает изображенный на иллюстрации навигационный знак?		<ul style="list-style-type: none"> • Внимание
233.	Что обозначает изображенный на иллюстрации навигационный знак?		<ul style="list-style-type: none"> • Свал течения на левую кромку судового хода
234.	Два самоходных судна, изображенные на рисунке		<ul style="list-style-type: none"> • Соединены бортами, выполняют буксировку на тросе состава с опасным грузом, следуют курсом на нас




235.	Самоходное судно, изображенное на рисунке, следует курсом на нас и занято буксировкой на тресе		<ul style="list-style-type: none"> • Сухогрузного состава
236.	Любое обгоняемое судно, кроме парусного, при обгоне его другим парусным судном должно		<ul style="list-style-type: none"> • Обеспечить проход обгоняющего судна с наветренной стороны
237.	Внутренние водные пути РФ. Вы наблюдаете навигационные огни следующего курсом от нас одиночного самоходного судна		<ul style="list-style-type: none"> • Шириной более 5 м
238.	Укажите тип судна		<ul style="list-style-type: none"> • Самоходный дноуглубительный снаряд на ходу при заборе грунта
239.	Если два судна идут встречными курсами		<ul style="list-style-type: none"> • Каждое судно должно изменить



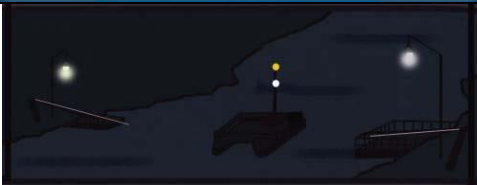
	таким образом, что может возникнуть опасность столкновения, то		свой курс вправо с тем, чтобы каждое судно прошло у другого по левому борту
240.	Если два маломерных судна идут курсами, пересекающимися таким образом, что может возникнуть опасность столкновения, то		<ul style="list-style-type: none"> • Маломерные не моторные суда и суда, не идущие под парусом, должны уступить дорогу парусным судам
241.	В тех случаях, когда положениями настоящих Правил плавания судов по внутренним водам предусмотрены звуковые сигналы, маломерные суда должны подавать их		<ul style="list-style-type: none"> • колоколом или свистком, или тифоном, или сиреной
242.	Не нарушая положений Правил плавания на ВВП, судоводители должны выбрать место якорной стоянки		<ul style="list-style-type: none"> • Как можно ближе к берегу, насколько это позволяют осадка и местные условия, и так, чтобы не препятствовать судоходству
243.	Вы наблюдаете навигационные огни		<ul style="list-style-type: none"> • Одиночного самоходного судна (шириной более 5 м) лишенного возможности управляться, и имеет ход относительно воды, следует курсом от нас




244.	Вы наблюдаете навигационные огни следующего курсом от нас одиночного самоходного судна		<ul style="list-style-type: none"> • Шириной 5 м и менее
245.	На рисунке изображен следующий вправо от нас буксирный состав		<ul style="list-style-type: none"> • С несамоходным судном, длиной более 50 м
246.	При постановке судна на якорь на судовом ходу судоводитель обязан, используя все доступные средства связи, уведомить об этом		<ul style="list-style-type: none"> • Диспетчера администрации бассейна внутреннего водного пути
247.	При сближении с немаломерными судами, маломерное судно должно		<ul style="list-style-type: none"> • Заблаговременно уходить с их пути без обмена звуковыми и зрительными сигналами




248.	На рисунке вы наблюдаете навигационные огни следующего курсом на нас		<ul style="list-style-type: none"> • Толкаемого сухогрузного состава с одним несамходным судном
249.	Как следует поступить в случаях, когда два судна идут пересекающимися курсами так, что возникает опасность столкновения?		<ul style="list-style-type: none"> • Судно, которое имеет другое судно на своей правой стороне, должно уступить ему дорогу
250.	В случае, когда по условиям пути маломерным судам следование за пределами судового хода невозможно, они могут		<ul style="list-style-type: none"> • Идти по судовому ходу вдоль правой по ходу кромки в пределах до 10 м от нее
251.	На рисунке изображена		<ul style="list-style-type: none"> • Буксировка сухогрузного состава двумя самоходными судами, соединенными в кильватер
252.	При подходе к затруднительному и не просматриваемому участку судно должно		<ul style="list-style-type: none"> • Сообщить о подходе по радиотелефонной связи, уменьшить ход до минимального и подать звуковой сигнал «Внимание»
253.	При приближении к участкам, где расхождение запрещено		<ul style="list-style-type: none"> • Судно, идущее вверх, должно убавить ход до минимального или




			остановиться и пропустить судно, идущее вниз
254.	Какое судно движется курсом на нас?		<ul style="list-style-type: none"> • Парусное судно длиной 20 м и более
255.	В случае, когда по условиям пути или каким-либо другим причинам, пропуск по левому борту невозможен		<ul style="list-style-type: none"> • Судно, идущее вверх, должно заблаговременно перейти на левую по ходу сторону судового хода в наиболее удобное место, убавить ход до минимального или остановиться и осуществить пропуск встречного судна по правому борту
256.	Пересечение судном полосы движения или всего судового хода должно производиться		<ul style="list-style-type: none"> • Под углом, близким к прямому углу к направлению оси судового хода
257.	Каждое судно при расхождении со встречными судами левыми бортами должно		<ul style="list-style-type: none"> • Своевременно уклониться вправо, на сколько это необходимо и безопасно


258.	На рисунке изображено следующее курсом на нас самоходное судно, занятое буксировкой			<ul style="list-style-type: none"> • Плотового состава на тросе
259.	На рисунке изображено			<ul style="list-style-type: none"> • Одинокое самоходное судно с опасным грузом, длиной 50 м и более
260.	На рисунке изображено одинокое самоходное судно с опасным грузом			<ul style="list-style-type: none"> • Длиной 50 м и более, следует курсом на нас

261.	На рисунке изображено		<ul style="list-style-type: none"> • Судно, занятое протаскиванием траловых сетей или другого орудия лова рыбы, идет курсом на нас
262.	Запрещается расхождение и обгон судов		<ul style="list-style-type: none"> • В зоне аварийно-ремонтных работ, заградительных ворот каналов
263.	Вы наблюдаете на рисунке		<ul style="list-style-type: none"> • Паром канатной паромной переправы на ходу

264.	Укажите тип судна, если видите желтый огонь		<ul style="list-style-type: none"> • Толкаемый состав, с толкачом шириной 5 м и менее, следует курсом от нас
265.	Укажите тип судна		<ul style="list-style-type: none"> • Дноуглубительный снаряд, работает на левой кромке судового хода
266.	Что обозначают знаки, поднятые на судне?		<ul style="list-style-type: none"> • Терпящее бедствие судно нуждается в помощи
267.	Судно, когда оно намерено предупредить другое судно об опасности, должно подавать сигнал "Предупреждение", состоящее из ...		<ul style="list-style-type: none"> • Серии коротких, не менее 5, звуков

268.	На рисунке Вы наблюдаете навигационные огни судна, занятого			<ul style="list-style-type: none"> • Водолазными работами
269.	На рисунке изображено			<ul style="list-style-type: none"> • Парусное судно длиной 20 м и более, следует курсом от нас
270.	На рисунке изображен следующий курсом влево от нас буксирный состав ...			<ul style="list-style-type: none"> • С тремя несамоходными судами с опасным грузом

271.	Укажите тип судна			<ul style="list-style-type: none"> • Толкаемый состав, с толкачом шириной более 5 м, следует курсом от нас
272.	Вы наблюдаете навигационные огни следующего курсом от нас судна			<ul style="list-style-type: none"> • Занятого буксировкой
273.	На рисунке изображено			<ul style="list-style-type: none"> • Парусное судно длиной от 7 до 20 м, следует курсом на нас
274.	В случае, когда по условиям пути или каким-либо другим причинам расхождение затруднено			<ul style="list-style-type: none"> • Судно, идущее вверх, должно маневрировать таким образом, чтобы расхождение произошло в наиболее удобном месте

275.	На рисунке изображено		<ul style="list-style-type: none"> • Парусное судно длиной менее 7м
276.	Правилами плавания по ВВП запрещается использовать для швартовки судов		<ul style="list-style-type: none"> • Парапеты, поручни, колонны, знаки судоходной обстановки и т.п